



O POVO EM PRIMEIRO LUGAR.

## PREFEITURA MUNICIPAL DE LAJEDO

### CONCURSO PÚBLICO PARA PROVIMENTO DE VAGAS EM CARGOS NO QUADRO PERMANENTE

# CADERNO DE PROVA

---

## Nível Fundamental I

Cargos: Auxiliar de Serviços Gerais, Cozinheira, Vigilante, Motorista B,  
Motorista D, Patrolista.

---

### **Leia com atenção:**

01. Só abra este caderno após ler todas as instruções e quando for autorizado pelos fiscais de sala.
02. Preencha seus dados pessoais no quadro abaixo.
03. Autorizado o início da prova, verifique se este caderno contém 30 questões.
04. Todas as questões desta prova são de múltipla escolha, apresentando como resposta uma alternativa.
05. Assinale a resposta de cada questão no corpo da prova e, só depois transfira os resultados para a Folha de Respostas.
06. Confira também na sua Folha de Respostas, todos os seus dados impressos.
07. Para marcar a Folha de Respostas utilize caneta esferográfica de cor azul ou preta. A marcação é definitiva, não admitindo rasuras e em nenhuma hipótese ela será substituída.
08. Não risque, não amasse, não dobre e não suje a Folha de Respostas, pois isso poderá prejudicá-lo.
09. Os fiscais não estão autorizados a emitir opinião, nem a prestar esclarecimentos sobre o conteúdo da prova. Cabe única e exclusivamente ao candidato interpretar e decidir.
10. **É facultada ao candidato, após o decurso de 2h (duas horas) da aplicação das provas,** a transcrição de suas respostas, registradas no documento oficial (Folha de Respostas), para um formulário específico, denominado **Folha de Cópia de Respostas**, entregue pelo fiscal de sala após o tempo acima decorrido, sendo este formulário o único documento permitido para este fim.

NOME: \_\_\_\_\_ SALA: \_\_\_\_\_

INSCRIÇÃO: \_\_\_\_\_ IDENTIDADE: \_\_\_\_\_ ORGÃO/UF: \_\_\_\_\_

ASSINATURA: \_\_\_\_\_



**PROVA : LÍNGUA PORTUGUESA**

**Texto 1**

**O MANUAL DA RECICLAGEM**

Os especialistas derrubam alguns dos mitos mais difundidos sobre a reciclagem e dão dicas básicas para quem quer começar a separar o lixo.

**VALE A PENA FAZER**

. Separar o lixo seco de todos os restos orgânicos: um copo sujo de cafezinho pode inutilizar quilos de papel limpo – e reciclável.

. Lavar as embalagens para retirar os resíduos dos alimentos e dos produtos de higiene e limpeza.

**NÃO VALE A PENA FAZER**

. Separar o lixo seco por tipo de material. As empresas e cooperativas farão uma nova triagem – estando o lixo organizado ou não.

. Amassar latas e garrafas PET ou desmontar as embalagens longa-vida. São medidas que não encurtam em nada o processo de reciclagem.

(Mônica Weinberg. Comece a reciclar. Veja, S. Paulo, 2007)

1. Podemos dizer que o texto é instrucional:

- a) Porque “Vale a pena fazer” e “Não vale a pena fazer”.
- b) Porque o texto veicula instruções, orienta o leitor sobre o que fazer para ajudar na reciclagem.
- c) Porque o texto é organizado em tópicos.
- d) Porque o texto é escrito com imagens e auxilia o entendimento.
- e) Porque traduz medidas que prejudicam o trabalho do funcionário.

2. A expressão **carregar água na peneira** significa se esforçar em vão, ou seja, dedicar-se a alguma coisa sem obter o resultado desejado. Na língua portuguesa, há muitas outras expressões que contêm a mesma palavra **água**. Leia algumas delas e seus significados.

- **Ser claro como água** = estar evidente, claro
- **Ter bebido água de chocalho** = falar em excesso
- **Água de batata** = café muito fraco

Marque a alternativa que corresponde ao significado adequado a expressão destacada na frase: Bruno parece **um peixe fora d'água**.

- a) Não estar se sentindo bem.
- b) Não conseguir nadar.
- c) Estar sem ar.
- d) Não estar à vontade.
- e) Mergulhar bem fundo.

3. Leia uma possível definição para a Internet.

“A Internet é uma rede mundial de informações que pode ser acessada pelo computador, via satélite, por cabos e linha telefônica. Por meio dela, podemos acessar uma infinidade de endereços no mundo todo, conversar on-line com outras pessoas, enviar e receber mensagens, ler jornais, revistas, obter ajuda em pesquisas escolares e tantas outras coisas.”

Agora, como já vimos o que podemos ter com a ajuda da Internet, marque a única opção que não é possível obter com a Internet.

- a) Visitar museus e exposições científicas.
- b) Comprar livros e brinquedos.
- c) Sentir o aroma dos alimentos e sabores.
- d) Comprar CDs e também vendê-los.
- e) Escrever um texto.

4. Leia com atenção o trecho abaixo.

“Criança não pode trabalhar por motivo simples: porque ela está muito **ocupada** sendo criança.”

Assinale, entre as alternativas a seguir, aquela que possui o sentido do oposto ao termo destacado:

- a) Rápida
- b) Desocupada
- c) Solta
- d) Desajeitada
- e) Lenta

5. - Em uma narrativa, há palavras que indicam as ações vividas pelos personagens. No trecho a seguir, algumas dessas palavras aparecem em destaque. Observe:

“... na noite em que **fez** treze anos ele **saiu correndo** até uma árvore, em frente de sua casa, **estrebuchou** e **virou** lobisomem.”

Essas palavras destacadas indicam que o narrador se refere a fatos que:

- a) Estão acontecendo.  
b) Nunca aconteceram.  
c) Já aconteceram.  
d) Talvez venham a acontecer.  
e) Irão acontecer.
6. “A mulher e os filhos (...) que se **ajeitassem** sozinhos”. Normalmente escrevemos **j** antes de **ei**, o que, no entanto, não é uma regra indiscutível. Assinale a opção onde há emprego indevido de **j**:
- a) Sugeira, lijeiro.  
b) Jeito, laranja.  
c) Loja, lojista.  
d) Sujeito, jeito.  
e) Lajem, pajem.
7. No texto abaixo, a palavra destacada está escrita errada. Usando a ortografia correta o texto ficará:
- “Tente ligar agora mesmo para a sua empresa e veja **porque** você tem que ler este anúncio”.
- a) Tente ligar agora mesmo para a sua empresa e veja **por quê** você tem que ler este anúncio.  
b) Tente ligar agora mesmo para a sua empresa e veja **porquê** você tem que ler este anúncio.  
c) Tente ligar agora mesmo para a sua empresa e veja **por que** você tem que ler este anúncio.  
d) Tente ligar agora mesmo para a sua empresa e veja **pôrque** você tem que ler este anúncio.  
e) Tente ligar agora mesmo para a sua empresa e veja **pôr que** você tem que ler este anúncio.
8. Os textos a seguir são cópias de trechos da obra *Urupês*, de Monteiro Lobato, que fazia questão de escrever as palavras como queria, no entanto, apenas uma alternativa está escrita corretamente, assinale-a:
- a) “De cégo de nascença, vá”.  
b) “- Pode ser, disse. Talvez vá...”  
c) “- Homem, são doutor, quer saber?”  
d) “E, como era farol, a conversa recaiu sobre os faróis.”  
e) “Alem disso Rosinha cuidava de si. Sempre limpa, vestida de boas chitas da sua côr.”
9. Leia o período: “Os nossos caboclos dizem “lobisome” e **têm** muito medo dele.” Repare na palavra destacada e assinale a seguir a alternativa que corresponde melhor ao seu sentido na frase.
- a) Possuem  
b) Sentem  
c) Recebem  
d) Olham  
e) Pensam
10. No trecho: “A Cuca é uma velha **feiíssima**, com jeito de bruxa, cabelos desgrenhados.” O que quer dizer a palavra em destaque? Marque a opção mais adequada.
- a) Feia  
b) Pouco feia  
c) Muito feia  
d) Levemente feia  
e) Nada feia
11. Leia o texto:

### Com todas as cores

A alimentação saudável é aquela que tem nutrientes de todos os tipos. Os alimentos devem ser, de preferência, naturais e preparados com muito cuidado para preservar todas as suas propriedades.

“Nenhum alimento, isoladamente, fornece tudo de que uma pessoa precisa consumir para ter um crescimento saudável”, alerta Sônia Tucunduva, nutricionista da USP (Universidade de São Paulo). Cada alimento desempenha uma função no organismo.

Por isso é importante ter um prato colorido, com proteínas, carboidratos, e vitaminas, entre outros. Mas os alimentos devem ter qualidade a serem consumidos nas quantidades certas, sem excessos, e em ambientes calmos.

“Quando orientadas, as crianças são capazes de selecionar e de comer bons alimentos”, diz.

O assunto tratado no texto é sobre alimentação. Qual a alternativa que não consta no texto?

- a) O texto foi escrito com o objetivo de dar ao leitor informações de como se alimentar de maneira saudável.  
b) O assunto tratado pelo texto é a classificação dos alimentos que proporciona uma alimentação saudável.  
c) O texto foi escrito com o objetivo de dar ao leitor informações de como se alimentar bem.  
d) Devemos consumir, de preferência, alimentos naturais.  
e) As refeições não devem ser feitas em ambientes calmos.

12. As gírias são palavras e expressões usadas em conversas informais, principalmente entre pessoas muito próximas, como amigos e familiares. Relacione a gíria em destaque, no período, com o sentido equivalente, marcando a alternativa correta.

“Vou tentar **descolar** alguns ingressos para o jogo.”

- a) Fácil
- b) Simples
- c) Conseguir
- d) Conversar
- e) Moleza

Texto para as questões 13 e 14.

### Com tainha não vale

Três jovens que participaram de uma competição de pesca na Nova Zelândia correm o risco de serem condenados à prisão. Motivo: enganaram os organizadores do torneio para ganhar o prêmio de 10 mil reais. O peixe que eles afirmaram ter pescado fora comprado 19 dias antes. Eles introduziram uma tainha inteira no peixe para aumentar seu peso e o conservaram na geladeira.

(Revista *Isto É*, São Paulo, 2002)

13. O texto **Com tainha não vale** é uma notícia. As notícias relatam acontecimentos:

- a) Reais
- b) Imaginários
- c) Fantasia
- d) Ilusões
- e) Criações

14. O fato relatado pela notícia acima é sobre:

- a) Competição de pesca.
- b) Notícias e acontecimentos imaginários.
- c) Falecimento de celebridade.
- d) Três jovens que correm o risco de ser presos.
- e) Peixe congelado.

15. Identifique a única alternativa errada quanto à ortografia:

- a) A regência da banda era magnífica.
- b) Todas as pessoas se levantaram felizes.
- c) Eles passeiam todos os dias.
- d) A gíria estava no tanque.
- e) O gorjeio dos pássaros é maravilhoso.

**PROVA: MATEMÁTICA**

16. O sítio Lagoa, localizado nas proximidades de Garanhuns, produz leite de cabra. A criação chega a 315 caprinos distribuídos igualmente em 7 cercados. As cabras produtoras do leite ocupam 3 dos 7 cercados e produzem, no total, 17.550 litros de leite por semana. É correto afirmar que nesse sítio, semanalmente:

- a) 180 cabras produzem leite
- b) 135 cabras produzem leite
- c) 130 cabras produzem leite
- d) 315 cabras produzem leite
- e) 185 cabras produzem leite

17. A loja Infoagreste promove liquidação do seu estoque de computadores domésticos. O equipamento, que custa R\$ 1350,00, está sendo liquidado com desconto de R\$150,00. O preço de liquidação pode ser parcelado em 4 parcelas mensais iguais sem acréscimo, cada uma no valor de:

- a) R\$ 200,00
- b) R\$ 250,00
- c) R\$ 300,00
- d) R\$ 350,00
- e) R\$ 400,00

18. A companhia de eletricidade estadual emite demonstrativo do consumo de energia elétrica dos seus usuários. O quadro abaixo mostra o consumo do Sr. Luis da Silva nos primeiros quatro meses de 2009.

COMPANHIA DE ELETRICIDADE		
DEMONSTRATIVO DE DESPESAS/2009		

MESES	CONSUMO	TAXA ILUM.
Jan	135,06	13,50
Fev	135,67	13,56
Mar	125,98	12,59
Abr	129,79	12,97

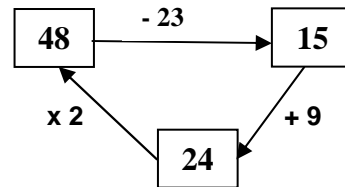
Com base no quadro, a despesa total do Sr. Luis da Silva, com energia elétrica foi:

- a) R\$ 570,12
- b) R\$ 579,12
- c) R\$ 589,12.
- d) R\$ 599,12
- e) R\$ 600,12

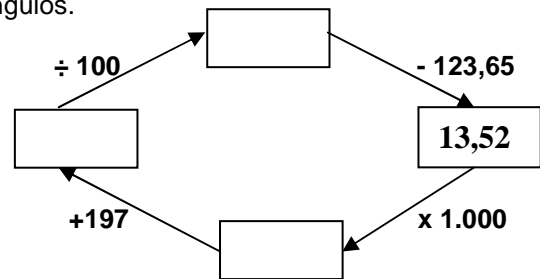
19. Subtraindo cinco mil trezentos e quarenta e seis reais de treze mil quatrocentos e trinta e cinco reais restam:

- a) R\$ 8.809,00
- b) R\$ 9.808,00
- c) R\$ 8.089,00
- d) R\$ 8.908,00
- e) R\$ 8.989,00

20. Observe o diagrama com exemplo:



Fazendo os cálculos no sentido das setas foi preenchido os retângulos do diagrama. Agora, faça o mesmo para o diagrama apresentado a seguir e marque a alternativa que preenche corretamente seus retângulos.



- a) 13.520; 13.177; 137,17
- b) 13.520; 13.717; 137,17
- c) 1.325; 1.522; 137,17
- d) 1.325; 1.252; 137,17
- e) 135.520; 13.717; 137,17

21. Leia a matéria abaixo, publicada no Diário de Pernambuco do dia 07/11/2009:

Alexandre G

**Cafezinho //** O hábito nacional do cafezinho ganha novos ingredientes e cresce com o final do ano. As franquias dos coffee shops São Braz já servem 45 mil cafezinhos por mês. No Shopping Boa Vista, acompanhado de tapiocas e da nega maluca, uma receita de café gelado, cresceu 30% em outubro sobre setembro.



Pode-se afirmar, após a leitura, que a franquia de café serve, diariamente, uma média de quantos cafezinhos?

- a) 1.000 cafezinhos
- b) 1.500 cafezinhos
- c) 2.000 cafezinhos
- d) 2.500 cafezinhos
- e) 3.000 cafezinhos

22. Leia o trecho:

A Secretaria de Educação do Estado de Pernambuco anunciou a contratação de empréstimo no valor de 154 milhões de dólares, para serem aplicados no Programa de Modernização das Escolas. No momento da assinatura do contrato, o dólar valia R\$ 2,65. Pode-se afirmar que o valor do empréstimo, em real, foi de:

- a) 408.100.000,00
- b) 409.100.000,00
- c) 410.100.000,00
- d) 411.100.000,00
- e) 412.100.000,00

23. Leia o anúncio de uma concessionária de automóveis em Caruaru.



Em resposta a um cliente, o vendedor da concessionária afirmou que a diferença entre os preços a vista e preço parcelado é de R\$:

- a) 9.100,00
- b) 9.200,00
- c) 9.300,00
- d) 9.400,00
- e) 9.500,00

O texto a seguir refere-se às questões 24 e 25.

O Profº Antonio Muniz mensalmente vai a Timbaúba em visita a seus familiares. Na viagem percorre, ida e volta, em torno de 192 quilômetros com seu carro consumindo um litro de gasolina para cada 8 quilômetro rodado. Atualmente ele abastece seu carro com gasolina ao preço de R\$ 2,68 o litro.

24. Qual a alternativa que apresenta a quantidade aproximada de gasolina, em litros, consumida em recente viagem?

- a) 20
- b) 21
- c) 22
- d) 23
- e) 24

25. Qual a alternativa que apresenta o gasto, em real, com o combustível utilizado em recente viagem?

- a) R\$ 34,32
- b) R\$ 44,32
- c) R\$ 54,32
- d) R\$ 64,32
- e) R\$ 74,32

26. Leia os números escritos nos retângulos:



Qual alternativa representa corretamente a forma de escrever esses números por extenso?

- a) Sete mil e noventa e nove, oito mil e noventa, nove mil e noventa, dezenove mil e noventa e nove
- b) Sete mil e noventa e nove, oito mil e noventa, nove mil e novecentos, dezenove mil e noventa e nove
- c) Sete mil novecentos e noventa e nove, oito mil e novecentos, nove mil e noventa e nove, dezenove mil e noventa e nove
- d) Sete mil novecentos e noventa e nove, oito mil e noventa, nove mil e noventa, dezenove mil e noventa e nove
- e) Sete mil e noventa e nove, oito mil e novecentos, nove mil e noventa, dezenove mil novecentos e nove

27. Veja o anúncio:



Para comemorar o aniversário do Profº Carlos Alberto, alguns companheiros solicitaram à Rotisseria Coma Bem, os seguintes pratos para viagem:

- 1 Kg de vatapá
- 2 Kg de feijoada
- 1,5 Kg de sururu ao coco
- 2,5 Kg de fricassé de galinha

De acordo com os preços anunciados, a despesa com a alimentação foi, aproximadamente, de R\$:

- a) 195,30
- b) 185,30
- c) 175,30
- d) 165,30
- e) 159,30

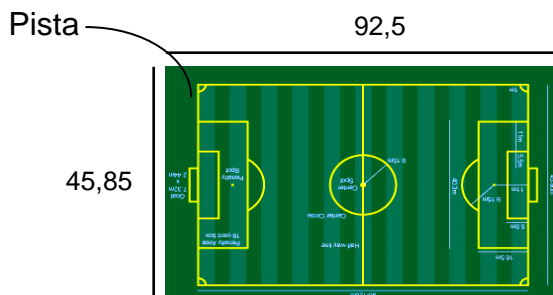
28. Leia os trechos extraídos de edições de novembro de 2009, do Diário de Pernambuco:

- Secretaria Estadual garantiu ontem empréstimo de US\$ **154 milhões** para modernização das escolas.
- Especialistas calculam que o apagão gerou um prejuízo de R\$ **334,8 milhões** ao país.
- Governo mantém Programa de correção de fluxo inserindo 230.000 estudantes em cursos para acabar com a distorção idade-série. Em 2011, serão atendidos **82,5 mil** estudantes.

Marque a alternativa que apresenta as formas de escrever com algarismos os números destacados nos trechos.

- a) 154,0; 334,8; 82,5
- b) 154.000; 334.800; 82.500
- c) 154.000.000; 334.800.000; 82.500
- d) 154.000; 334, 800; 82.500
- e) 154,000,000; 334,800; 82.500

29. O estádio de futebol onde será disputada a final da Copa do Interior possui uma pista de forma retangular em volta do campo com as dimensões constantes no modelo apresentado. Quantos metros os jogadores do time campeão percorrerão para dar uma volta olímpica em torno do campo:



- a) 276,7
- b) 286,7
- c) 296,7
- d) 306,7
- e) 316,7

30. Num programa de televisão, o participante ganha R\$ 50,00 por resposta certa e perde R\$ 30,00 quando erra a resposta. São feitas 60 perguntas a um candidato que, no final, recebe a importância de R\$ 1.800,00. Quantas perguntas ele acertou?



- a) 25
- b) 30
- c) 35
- d) 40
- e) 45