



CÂMARA MUNICIPAL DE IGARASSU-PE
PODER LEGISLATIVO
CASA DE DUARTE COELHO

**CONCURSO PÚBLICO PARA PROVIMENTO DE VAGAS EM CARGOS NO QUADRO
PERMANENTE DA CÂMARA MUNICIPAL DE IGARASSU-PE**

CADERNO DE PROVA

Prova : AUXILIAR DE SERVIÇOS GERAIS

Data: 15/09/2019

LEIA COM ATENÇÃO

PROVA

Além deste Caderno de Provas, contendo 50 (cinquenta) questões objetivas, você receberá do fiscal de sala, uma folha destinada às respostas das questões objetivas (Folhas de Respostas).

TEMPO

O tempo disponível para realização da prova, incluído o tempo para a marcação da Folha de Respostas, será 03(três) horas:

- Permanência mínima de 01 (uma) hora após o início da prova;
- O candidato poderá levar seu Caderno de Provas 30 (trinta) minutos antes do horário previsto para o término da prova.

É PROIBIDO

Folhear o Caderno de Provas antes da autorização do Fiscal;
Qualquer espécie de consulta ou comunicação entre os candidatos durante a aplicação da prova;
Levantar da cadeira sem autorização do fiscal de sala;
Fazer uso dos sanitários, após o término da prova;
Sair do prédio de aplicação das provas portando a Folha de Respostas, documento oficial para avaliação.

INFORMAÇÕES GERAIS

- Só abra este caderno de provas após ler todas as instruções e, quando for autorizado pelo Fiscal de Sala;
- Verifique se seu caderno está completo, sem repetição de questões ou falhas. Caso contrário, notifique imediatamente o fiscal de sala, para que sejam tomadas as providências;
- Preencha seus dados pessoais no quadro abaixo;
- Autorizado o início da prova, verifique se este caderno contém 50 questões;
- Todas as questões desta prova são de múltipla escolha, apresentando como resposta uma alternativa;
- Assinale a resposta de cada questão no corpo da prova e, só depois, transfira os resultados para a Folha de Respostas;
- Confira, na sua Folha de Respostas, todos os seus dados impressos, nome, número de inscrição, documento de identidade e data de nascimento;
- Para marcar a Folha de Respostas, utilize caneta esferográfica de cor azul ou preta(material transparente). A marcação é definitiva, não admitindo rasuras e em nenhuma hipótese, ela será substituída;
- Não risque, não amasse, não dobre e não suje a Folha de Respostas, pois isso poderá prejudicá-lo;
- Os fiscais não estão autorizados a emitir opinião, nem a prestar esclarecimentos sobre o conteúdo da prova, cabe exclusivamente ao candidato, interpretar e decidir;
- Os candidatos serão submetidos ao sistema de detecção de metais quando do ingresso e da saída dos sanitários durante a realização da prova;
- Terá sua prova anulada e será automaticamente eliminado da seleção o candidato que fizer anotação de informações relativas às suas respostas no comprovante de inscrição e/ou em qualquer outro meio, que não seja a prova ou a Folha de Respostas;
- Ao terminar a prova, o candidato entregará ao fiscal de sala, obrigatoriamente, sua Folha de Respostas;
- Os 03 (três) últimos candidatos ao terminarem as provas deverão permanecer juntos na sala de provas, sendo liberados somente após os três terem entregado o material utilizado e terem seus nomes registrados na Ata, além de coletadas suas respectivas assinaturas;
- Qualquer tentativa de fraude implicará imediata denúncia à autoridade competente, que tomará as medidas cabíveis com prisão em flagrante dos envolvidos.



NOME			
INSCRIÇÃO	SALA	IDENTIDADE	ORGAO/UF

PROVA: LÍNGUA PORTUGUESA

Texto 1

Profissões do futuro

A incerteza na hora de escolher um curso para prestar vestibular é grande e na dúvida, o melhor é optar pelos cursos tradicionais, como médicos ou direito, certo? Errado. Fazer uma escolha antes de estar preparado para ela é, no mínimo, uma perda de tempo e dinheiro. Estudar em uma faculdade que não tem nada a ver com você traz decepção e mais incertezas. O mercado está expandindo as suas áreas e o ideal é ficar de olho e ver se dá pra unir prazer e dinheiro, trocando em miúdos: se o seu curso tem a sua cara e se ele está cotado como um curso rentável do futuro. Novos cursos surgem todos os dias com o propósito de atender demandas do mercado de trabalho por profissionais especializados ou pelo desmembramento de habilitações tradicionais. Algumas novas graduações podem representar boas oportunidades de trabalho.

Vejam os novos cursos que estão surgindo: Agroecologia, Ecoeducação, Edueconomia, Ciências do consumo, Ciências atuariais, Gerontologia, Esporte, Economia agroindustrial, etc.

Gerontologia é a ciência que estuda o processo de envelhecimento do ser humano e as formas de promover uma melhor qualidade de vida. Geriatria é a área médica que estuda e trata das doenças típicas das pessoas idosas.

As pessoas com mais de 60 anos de idade atualmente constituem 10% da população brasileira, com tendência a aumentar gradativamente, pois a expectativa de vida desta parte da sociedade vem melhorando todos os anos. O objetivo desse curso é formar profissionais que possam ajudar a melhorar a qualidade de vida dos idosos nos aspectos emocional, físico e social.

www.vestibular.brasil.escola.com (adaptado) acesso em 20/08/19

Questão 01

Em todas as alternativas existem falhas quanto à análise do texto 1, identifique a única que se encontra correta.

- Há um incentivo para que as pessoas sigam, em qualquer Universidade curso de medicina ou de direito.
- Apresenta um ponto de vista material de que se deve procurar um curso que dê retorno financeiro.
- Mostra que, na atualidade, existe a necessidade de ampliar os conhecimentos em outras direções diante da expansão do mercado de trabalho.
- Refere-se a que apenas com uma graduação, o jovem estará apto ao campo de trabalho na modernidade.

- Existem vários enfoques para o mercado de trabalho, à exceção daquele relacionado aos idosos.

Questão 02

Sobre as funções de linguagem do texto, em análise, observe as afirmativas abaixo:

- Apresenta uma leve abordagem da função de linguagem fática.
- Há ainda elementos próprios da função de linguagem apelativa.
- Percebe-se que existem também elementos da função de linguagem informativa.

Está(ão) correta(s) a(s) afirmação(ões)

- Apenas I, II.
- Somente II, III.
- Apenas I.
- Somente II.
- Todas.

Questão 03

Em relação às regras ortográficas, o texto não apresenta erros, assim ocorre com os vocábulos “**incerteza**” e “**traz**”, redigidos com a letra “**z**”. Identifique abaixo a única alternativa em que todas as palavras devem ser redigidas com a mesma letra.

- Á....ia; a....ia; freguê....; fluide....
- Pre....ado; atravé....; bra....a; qui....
- Pra....er; revé....; vi....ar; avi....o
- Bu....ina; co....inha; agili....ar; a....ar.
- Anali....ar; catequi....ar; pesqui....a; atrá....

Questão 04

“O mercado está expandindo as suas áreas e o ideal é ficar de olho e ver se dá pra unir prazer e dinheiro, trocando em miúdos: se o seu curso **tem a sua cara** e se ele está cotado como um curso rentável do futuro. (§2)

Analise o parágrafo e ponha V, para as afirmativas verdadeiras e F, para as falsas:

- () O parágrafo se encontra todo redigido de acordo com a variedade linguística formal.
- () Os verbos existentes no parágrafo pertencem a modos e tempos diferentes.
- () Um elemento conector indicativo de condição se encontra no parágrafo.
- () “**tem a sua cara**” é uma expressão da variedade linguística informal.

A única alternativa correta é:

- F, V, V, V,
- F, F, V, V.
- F, V, F, V.
- V, F, F, V.
- F, V, V, F.

Questão 05

Identifique a única alternativa correta quanto aos aspectos gramaticais em geral, inclusive a semântica.

- a) Existem falhas quanto ao emprego dos sinais de pontuação.
- b) Há apenas verbos transitivos diretos e intransitivos.
- c) A expressão “**trocando em miúdos**” significa no contexto “**resumindo, abreviando**”.
- d) No período existem falhas de concordância e de regência.
- e) A palavra “**gerontologia**” (§5) é formada pelo processo chamado de derivação.

Questão 06

O numeral ordinal de 3 é “**terceiro**” e, no feminino, é “**terceira**”, conforme se encontra redigido no texto. Identifique a única alternativa em que o numeral ordinal se encontra redigido de maneira correta.

- a) Paulo foi classificado no concurso no 200º (duzentésimo) lugar.
- b) A classificação de Maria José foi em 80º (octogésimo) lugar.
- c) Manuel estudou pouco e ficou no 901º (nonagésimo primeiro) lugar.
- d) Na relação classificatória, Diana tirou o 403º (quadragésimo terceiro) lugar.
- e) A melhor classificação ficou com Teresa, no 52º (quingentésimo) lugar.

Questão 07

“**Vejam os novos cursos que estão surgindo no mercado de trabalho**” (§4), analise morfológica e sintaticamente os termos a fim de poder responder a esta questão.

- I. Duas orações existem no período, sendo uma delas subordinada adjetiva.
- II. O período exposto possui dois sujeitos: um é desinencial ou oculto e o outro é representado pelo pronome relativo.
- III. A forma verbal “**vejam**” se encontra em um modo que indica ordem ou pedido.

Está (ão) correta(s) a(s) afirmativa(s):

- a) Todas.
- b) Somente I, e II.
- c) II e III somente.
- d) Apenas I.
- e) III apenas.

Texto 2



Questão 08

Pode-se afirmar apenas que o texto 2 apresenta

- a) Somente linguagem não verbal.
- b) Linguagem verbal apenas.
- c) Predominância da função de linguagem referencial.
- d) Apenas termos da variedade formal da língua portuguesa.
- e) Linguagem verbal e não verbal.

Questão 09

“**Por que** será que as plantas não falam?”

Identifique a única assertiva cuja lacuna deverá ser preenchida pelo vocábulo destacado.

- a) Os jovens se destacam nos seus cursos _____ são dedicados aos livros.
- b) Todos deveriam saber _____ ainda não estão recebendo salário digno.
- c) Os homens poderiam identificar o _____ de tanta violência no mundo.
- d) Alguns vivem temerosos do amanhã _____?
- e) Somos felizes _____ cremos no der poder do Ser Supremo.

Questão 10

Sobre o texto 2, leia as alternativas, marcando em seguida a única que se encontra sem erro.

- a) O texto apresenta termos empregados sem ambiguidade.
- b) A variedade linguística é formal, sem intervenção da variedade coloquial.
- c) Todas as palavras estão empregadas em sentido denotativo.
- d) A linguagem é sintética e possui humor irônico.
- e) Os sinais de pontuação estão empregados de modo incorreto.

Texto 3

A Importância da gestão de pessoas em uma empresa

Pequenas e médias empresas competem com atividades de multinacionais, ideias inovadoras de parceiros do mesmo segmento ou mesmo com a concorrência direta de acordo com o setor. Além disso, é um meio com menos funcionários, geralmente benefícios mais limitados e salários menores, exigindo que as instituições motivem cada vez mais os colaboradores de forma que “vistam a camisa”.

Essa motivação é apenas um detalhe para que os funcionários sigam produzindo, satisfeitos com o lugar e atraiam cada vez mais ideias, projetos e clientes, fazendo com que o desenvolvimento profissional seja equilibrado com o crescimento da empresa. Com esse objetivo, a gestão de pessoas é uma área e necessidade real para as pequenas empresas, prevendo eventuais desafios para os fundadores, sócios e equipes internas.

Para entender melhor como desenvolver a gestão de pessoas é importante notar, fazer com que, todo funcionário novo se sinta desde o início que a empresa apresenta uma oportunidade de crescimento para sua profissão, além de atividades coerentes, equipes produtivas e desafios.

Além disso, é muito bom que o recebimento do novo colaborador seja positivo e que a equipe esteja preparada para explicar os procedimentos, mostrar o dia a dia da empresa e integrar o novo funcionário à rotina do lugar.

Ainda a presença de um ajudante geral que trabalhe em diversos setores de acordo com a empresa, prestando auxílio e controlando materiais e estoque da empresa é de extrema necessidade. Ele pode ter como tarefas a manutenção e limpeza de equipamentos, conferir e controlar entrada e saída de materiais, manter organizado estoque e almoxarifado, auxiliar em linhas de produção, entre outras atividades.

O profissional também é responsável por prestar auxílio a diversas áreas e setores de uma empresa.

(Adaptado) www.softwares.com.br . acesso em 15/08/2019

“Essa motivação é apenas um detalhe para que os funcionários sigam produzindo, satisfeitos com o lugar e atraiam cada vez mais ideias, projetos e clientes, fazendo com que o desenvolvimento profissional seja equilibrado com o crescimento da empresa. Com esse objetivo, a gestão de pessoas é **uma área** e necessidade real para as pequenas empresas, prevendo eventuais desafios para os fundadores, sócios e equipes internas.” (§ 2)

Questão 11

Analise corretamente o parágrafo para poder responder corretamente a esta questão.

- I. Existem no referido parágrafo tanto orações coordenadas quanto subordinadas.
- II. “para que”, locução conjuntiva pode ser substituída corretamente por afim de que.
- III. “uma área” possui função de predicativo do sujeito.

Está(ão) correta(s) apenas:

- a) I, II.
- b) II, III.
- c) I, III.
- d) I.
- e) III.

Questão 12

Identifique a única alternativa correta em relação ao parágrafo em enfoque.

- a) Percebe-se a existência de vários vícios de linguagem, inclusive pleonasmos.
- b) Vê-se claramente que todos os elementos vocabulares são complementares.
- c) Há algumas formas verbais empregada erroneamente.
- d) Existe substantivo comum que mesmo no singular indica coleção.
- e) Evidencia-se a presença de nome apenas no grau comparativo sintético.

“Para entender melhor como desenvolver a gestão de pessoas é importante notar fazer com que todo funcionário novo se sinta desde o início que a empresa apresenta uma oportunidade de crescimento para sua profissão, além de atividades coerentes, equipes produtivas e desafios.” (§ 3)

Questão 13

Ponha V, para as afirmações verdadeiras e F, para as falsas.

- () A oração que marca o início de período possui relação semântica de finalidade.
- () A oração principal do período em análise é “ É importante.
- () O pronome pessoal átono se encontra empregado erroneamente.
- () “Funcionário” e “início” apresentam a mesma classificação quanto à acentuação gráfica.

A única alternativa correta é:

- a) V, V, V, F.
- b) V, F, V, V.
- c) V, V, V, V.
- d) V, F, V, F.
- e) V, V, F, V.

Questão 14

Sobre os vocábulos “gestão”, “além”, “é”, “sua” será correto afirmar que:

- a) Todas as palavras possuem ditongo, à exceção de “é”.
- b) Há três dissílabos e um monossílabo tônico.
- c) Apenas existe um dissílabo com ditongo.
- d) Nenhuma das palavras possui hiato.
- e) A duas primeiras palavras e a última possuem ditongo.

Questão 15

Sobre o parágrafo em análise, observe os itens abaixo:

- I. Existe erro quanto à colocação dos vocábulos.
- II. Caso seja retirado o “se”, o período torna-se sem lógica.
- III. Há termos indicando circunstância de tempo.
- IV. Apresenta regência e concordância corretas.
- V. Não existem elementos conectores.

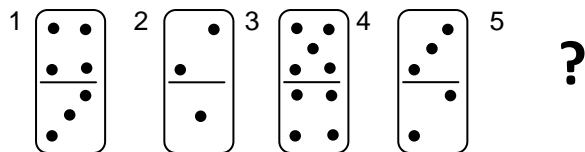
Está(ão) correta(s) apenas:

- a) II, III, IV.
- b) I, II, IV.
- c) III, IV.
- d) III, V.
- e) II, III, V.

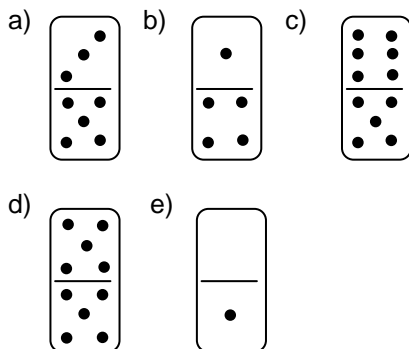
PROVA: RACIOCÍNIO LÓGICO

Questão 16

As pedras de dominó abaixo representadas apresentam uma sequência lógica:



Assinale a alternativa que representa a pedra que deverá preencher a posição [5] da sequência:



Questão 17

Em uma casa foram utilizadas 700 telhas para construir um telhado de 20 m². Para a construção de um telhado de 35 m² nas mesmas condições do anterior, quantas telhas serão necessárias?

- a) 1.225
- b) 400
- c) 1.400
- d) 775
- e) 20

Questão 18

Analise a sequência de palavras: DIA, ERVA, FEIRA, GELADO, HERALDO, INDÍGENA, Assinale a alternativa que corresponde à sétima palavra da sequência:

- a) JOANA.
- b) IGREJA.
- c) HÉLIO.
- d) JOALHEIRO.
- e) NOITE.

Questão 19

Assinale a opção que completa a sequência: ... 7, 8, 9, 21, 22, 23, 55, 56, (?) :

- a) 58
- b) 57
- c) 24
- d) 10
- e) 6

Questão 20

Em uma prova um aluno acertou 8 questões e errou 4. Qual a razão entre o número de acertos e o total de questões da prova?

- a) 1/2
- b) 2/5
- c) 2/4
- d) 2/3
- e) 3/4

Questão 21

Em um depósito, o total de garrafas armazenadas corresponde à quarta parte de 24, multiplicada pela sétima parte de 35. Assim o total de garrafas no depósito é:

- a) 59
- b) 11
- c) 210
- d) 42
- e) 30

Questão 22

Considere a afirmação abaixo descrita:

- Em uma determinada empresa, todos os recepcionistas são músicos.

Podemos afirmar que nessa empresa:

- a) Alguns recepcionistas não são músicos.
- b) O conjunto dos recepcionistas contém o conjunto dos músicos.
- c) O conjunto dos músicos está contido no conjunto dos recepcionistas.
- d) Não há músicos recepcionistas.
- e) O conjunto dos músicos contém o conjunto dos recepcionistas.

Questão 23

Sabe-se que a soma de um número com seu dobro é igual a 51. Assinale a alternativa que corresponde a esse número:

- a) 17
- b) 25,5
- c) 26.6
- d) 48
- e) 49

Questão 24

Na sequência de números abaixo relacionados assinale a alternativa que representa o número a ser substituído pela letra x:

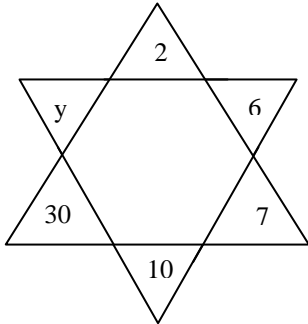
→ 3, 8, 13, X, 23, 28, 33, 38, ...

- a) 3
- b) 15

- c) 18
- d) 21
- e) 22

Questão 25

Observe a figura abaixo e assinale a alternativa que representa o número a ser substituído pela letra y :



- a) 15
- b) 22
- c) 31
- d) 35
- e) 40

PROVA: MATEMÁTICA

Questão 26

Uma fábrica possuía em 2015, 10.635 empregados. No início de 2017 em virtude da crise econômica dispensou 1.880 funcionários. Com quantos funcionários a fábrica ficou?

- a) 8.775
- b) 8.755
- c) 8.745
- d) 8.635
- e) 8.885

Questão 27

Ao comprar um produto no valor de R\$ 645,00 à vista, o cliente obteve um desconto de 12%. Qual foi o valor pago pelo cliente após realizado o desconto?

- a) R\$ 633,00
- b) R\$ 580,50
- c) R\$ 77,40
- d) R\$ 577,40
- e) R\$ 567,60

Questão 28

Dado que uma semana possui 7 dias. Quantos dias tem-se em 37 semanas?

- a) 44.
- b) 149.
- c) 249.
- d) 259.
- e) 269.

Questão 29

Considere o número inteiro 62. Realize a adição desse número inteiro com o seu antecessor e com o seu sucessor. Assinale a alternativa que apresenta o resultado dessa adição.

- a) 168
- b) 176
- c) 186
- d) 196
- e) 198

Questão 30

Sabendo que um triângulo é uma figura geométrica de 3 lados. Qual a soma os ângulos internos de um triângulo retângulo?

- a) 180°
- b) 120°
- c) 90°

- d) 60°
- e) 260°

Questão 31

Uma cotação referente a um lote de produtos a serem adquiridos custa R\$ 415.720,00. O comprador pagará ainda R\$ 28.912,00 de despesa de frete. Porém, se pagar à vista, terá um desconto de 10% apenas sobre o custo de aquisição dos produtos. Quanto o comprador vai pagar se optar pelo pagamento à vista?

- a) R\$ 444.632,00
- b) R\$ 403.060,00
- c) R\$ 486.204,00
- d) R\$ 457.292,00
- e) R\$ 374.184,00

Questão 32

Um trabalhador recebe seu salário no primeiro dia útil do mês. No dia 05 paga R\$ 437,12 de aluguel, no dia 10 paga R\$ 68,14 de impostos. No decorrer do mês gasta R\$ 1.089,67 com alimentação, transporte e demais despesas, ainda sobraram R\$ 749,18. Qual o valor do salário do trabalhador?

- a) R\$ 2.443,01.
- b) R\$ 2.343,10.
- c) R\$ 1.906,99.
- d) R\$ 1.594,93.
- e) R\$ 2.344,11.

Questão 33

Considere que um concursado estuda durante 2 horas e 45 minutos na parte da manhã e mais 4 horas e 30 minutos na parte da tarde. Assinale a alternativa que apresenta a quantidade de minutos de estudo diários do concursado.

- a) 425 minutos.
- b) 435 minutos.
- c) 445 minutos.
- d) 455 minutos.
- e) 465 minutos.

Questão 34

Sabendo que 4 trabalhadores carregam um caminhão com 1.340 Kg de cimentos em um dia. Quantos Kg conseguem ser carregados em um dia, caso tenhamos 9 trabalhadores realizando o carregamento?

- a) 2.680
- b) 12.060

- c) 5.360
- d) 3.015
- e) 3.150

Questão 35

Um assalariado comprou uma moto e dividiu em 12 prestações mensais iguais de R\$ 325,00. Porém, se por acaso atrasar e realizar o pagamento após o vencimento da prestação, incidirá juros de 5% sobre o valor da prestação do mês. Suponha que o assalariado atrasou todas as 12 prestações da moto. Quanto de juros ele pagou a mais em relação ao valor da moto sem cobrança dos juros?

- a) R\$ 195,00
- b) R\$ 325,00
- c) R\$ 341,25
- d) R\$ 3.900,00
- e) R\$ 4.095,00

Questão 36

Considere um número inteiro e positivo tal que seu quadrado menos o dobro desse número seja igual a 48. Calcule o valor desse número e assinale a alternativa correta.

- a) 14
- b) 6
- c) 8
- d) 12
- e) 16

Questão 37

Considerando os tipos de triângulos existentes. Assinale a alternativa que representa o triângulo que possui dois lados iguais e apenas um diferente. O lado desigual é, em geral, utilizado como referência de base desse triângulo.

- a) Triângulo Isósceles
- b) Triângulo Retângulo
- c) Triângulo Equilátero
- d) Triângulo Escaleno
- e) Triângulo Obtuso

Questão 38

O cubo é um poliedro por ser um figura geométrica tridimensional (três dimensões). Poliedro é o nome que se dá a uma figura geométrica espacial formada por polígonos. Os polígonos são figuras formadas por muitos lados e ângulos, no caso do cubo, ele é formado por vários quadrados planos unidos dois a

dois pelas suas arestas. O cubo possui 12 arestas e 8 vértices. As faces do cubo e suas arestas possuem as mesmas medidas e são perpendiculares. Considerando que um cubo possui arestas, todas com 2 unidades de medida. Assinale a alternativa que resulta no cálculo da área desse cubo.

- a) 8
- b) 12
- c) 16
- d) 20
- e) 24

Questão 39

Calcule o resultado da expressão a seguir:

$$10 \div \{ 2 + [(4 + 8) - 4] \} \times 3$$

- a) 8
- b) 6
- c) 4
- d) 3
- e) 2

Questão 40

Quadriláteros são polígonos que possuem quatro lados. Sendo assim, os quadriláteros herdaram todas as características e propriedades dos polígonos, como o fato de possuírem apenas duas diagonais ou de a soma dos seus ângulos internos ser sempre igual a 360°.

Os paralelogramos possuem uma característica a mais que os quadriláteros, que é o fato de possuírem lados opostos paralelos. Isso acarreta uma série de propriedades pertencentes somente a eles.

Assinale a alternativa que NÃO apresenta uma dessas propriedades do paralelogramo.

- a) Possuem lados opostos iguais.
- b) Possuem diagonais iguais.
- c) Possuem ângulos opostos iguais.
- d) Possuem ângulos adjacentes suplementares.
- e) As diagonais de um paralelogramo cruzam-se em seus pontos médios.

PROVA: CONHECIMENTOS GERAIS

Questão 41

A sociedade brasileira tem enfrentado dias difíceis. A violência, em seus diferentes níveis, tem crescido em velocidade alarmante. Ao observarmos o quadro da violência urbana no Brasil, podemos afirmar que todas as alternativas abaixo são fatores responsáveis por tal contexto, EXCETO:

- a) O crescimento urbano desordenado em virtude do rápido processo de êxodo rural, pois as grandes cidades brasileiras recebem, diariamente, um grande número de pessoas e a infraestrutura urbana não consegue acompanhar esse processo.
- b) O Estado, historicamente, tem falhado em promover medidas preventivas como fornecimento de moradia, educação e emprego para famílias carentes.
- c) As políticas de repressão ao crime organizado, criadas pelo Estado brasileiro, têm sido modelo para outros países em desenvolvimento, tendo em vista o êxito alcançado nas últimas décadas.
- d) Os policiais civis e militares são mal remunerados e, muitas vezes, não dispõem de condições ideais de trabalho.
- e) O sistema penitenciário, que deveria funcionar como instrumento de recuperação de pessoas, tornou-se alvo de mais violência em cadeias e presídios marcados pela superlotação.

Questão 42

Nos dias atuais, a necessidade de nos locomovermos cada vez mais rapidamente e percorrermos distâncias maiores tem levado as grandes cidades brasileiras ao caos da agitação, acidentes e horas desperdiçadas em longos engarrafamentos. Assinale a única alternativa que apresenta soluções para transformar essa realidade:

- a) Políticas de conscientização desenvolvidas pelos governantes e promoção, através da educação, da cultura do bem-estar e do respeito ao próximo e ao meio.
- b) Criação de uma legislação que proíba a aquisição de veículos por parte da população que vive nas periferias das grandes cidades.
- c) Estímulo à compra de carros importados por trazerem mais segurança e conforto para motoristas e passageiros.
- d) Limites para a circulação de transportes coletivos no centro das grandes cidades por se tratarem de veículos maiores e dificultarem a locomoção em áreas de muita circulação.
- e) Desinstalação de semáforos e radares de velocidade, que são responsáveis pela lentidão do trânsito em regiões de grande ocupação.

Questão 43

“O sentido da Democracia está na possibilidade de o cidadão exercer a soberania popular, que se concretiza pelo voto direto e secreto na escolha dos governantes. Daí o eleitor tem, em suas mãos, este importante instrumento de mudança política e social”.
https://www.gazetaonline.com.br/noticias/politica/eleicoes_2018
Com base nas afirmações do texto e nos conhecimentos sobre o sistema eleitoral brasileiro, podemos concluir que:

- a) A democracia brasileira tem se apoiado, desde a sua primeira Constituição, em um sistema de voto aberto e facultado apenas para cidadãos alfabetizados.
- b) As eleições presidenciais, em 2018, foram marcadas pela imposição do voto aos maiores de 70 anos e pessoas com necessidades especiais.
- c) O voto é um importante meio pelo qual o cidadão tem a possibilidade de escolher seus governantes e lutar para transformar a sociedade em que vive.
- d) A Constituição brasileira estabelece o voto facultativo para todos os cidadãos maiores de 18 anos, independente de gênero, raça e condição social.
- e) O voto não pode ser considerado um instrumento de transformação para a sociedade civil.

Questão 44

“Os partidos políticos, em um contexto democrático, são importantes ferramentas para identificar o que pode se esperar de um candidato ou de um governo. Nem todos têm o conhecimento ou o tempo necessário para realizar as pesquisas e construir uma opinião acurada sobre o comportamento de um político eleito. O partido enquanto agremiação que professa valores, ideologias e propostas ao público, serve também como meio de facilitar ao eleitorado o contato e a formação de preferências em relação à política”.
<https://brasile scola.uol.com.br/sociologia/partido-politico.htm>
Levando em consideração as afirmações do texto, é possível concluir:

- a) Os partidos políticos não possuem nenhuma importância no processo eleitoral.
- b) Os partidos políticos são importantes no processo eleitoral, pois podem ajudar os cidadãos a identificar valores e ideologias dos candidatos a eles filiados.
- c) A existência dos partidos políticos é desnecessária, pois estes nada definem a respeito dos posicionamentos e pensamentos dos candidatos.
- d) No processo político democrático, os partidos políticos não podem expressar ideologias contrárias ao governo instituído.
- e) O texto estabelece uma crítica à existência do grande número de partidos políticos no Brasil e sugere um sistema bipartidário.

Questão 45

O filósofo francês Charles de Montesquieu, em sua obra “O Espírito das Leis”, abordou um meio de reformulação das instituições com base na “teoria dos três poderes”, ou seja, a necessidade da divisão do poder político em três partes: executivo, legislativo e judiciário. Segundo a referida teoria, marque a alternativa que define a função do poder legislativo:

- a) O poder legislativo tem como função congregar os representantes políticos que irão estabelecer a criação de novas leis.
- b) A função do poder legislativo é centralizar as decisões administrativas, sobrepondo-se aos poderes executivo e judiciário.
- c) O dever de julgar, como base nos princípios legais, de que forma uma questão ou problemas serão resolvidos, cabe ao poder legislativo.
- d) Na sociedade democrática, o poder legislativo restringe-se, apenas, a determinar a forma como os representantes do povo serão eleitos.
- e) A “teoria dos três poderes” estabelece que o poder legislativo é o menos importante dos três e deve se submeter às decisões tomadas pelos demais poderes.

Questão 46

A crise econômica que se instalou no Brasil, desde 2014, trouxe reflexos diretos na sociedade de consumo. Isso ocorreu graças ao crescente número de desempregados. Sobre a crise e os impactos na sociedade de consumo brasileira, é possível afirmar que:

- a) Os índices que medem o consumo aumentaram consideravelmente em alguns setores, como livros e vestuário.
- b) Apesar da diminuição do poder de compra de parte da população, os níveis de consumo subiram e se mantiveram satisfatórios.
- c) Com o aumento do consumo, apesar do grande número de desempregados, as indústrias realizaram grandes investimentos em tecnologia voltada para o aumento da produtividade.
- d) Os índices de consumo mantiveram-se estáveis. Setores como comércio e indústria não sentiram os impactos da crise.
- e) A sociedade de consumo precisou se reorganizar de forma a priorizar bens e serviços que alcançaram a condição de básicos, diante de um orçamento cada vez mais reduzido.

Questão 47

A globalização é um dos termos mais frequentemente utilizados para descrever a conjuntura do sistema capitalista e sua consolidação nos dias atuais. Todas as afirmações abaixo são características da globalização, EXCETO:

- a) Avanços importantes proporcionados pela evolução dos meios tecnológicos, assim como uma maior difusão do conhecimento.
- b) Expansão das empresas multinacionais. Muitas abandonaram seus países de origem ou, apenas, expandiram suas atividades aos mais diversos locais.
- c) Formação de acordos locais ou blocos econômicos.
- d) Forte abalo nas estruturas do sistema capitalista e avanços na implantação de políticas econômicas de cunho socialista, tal como a necessidade de intervenção estatal direta na economia.
- e) Manifestação não linear, de forma a ser mais ou menos intensa a depender da região em que se estabelece.

Questão 48

O racismo é um dos principais problemas sociais enfrentados nos séculos XX e XXI, causando, diretamente, desigualdade social e violência. A respeito de tal afirmação, marque a única alternativa verdadeira:

- a) No Brasil, as causas do racismo estão associadas, principalmente, ao longo período de escravidão e à abolição tardia e desorganizada.
- b) Embora seja um problema que atinge diferentes regiões do globo, não se pode afirmar que exista racismo no Brasil, dadas as políticas públicas de inclusão e à legislação antirracismo do Estado brasileiro.
- c) A população indígena brasileira não enfrenta problemas relacionados ao racismo, porque o único tipo de escravidão que ocorreu no Brasil foi a escravidão africana.
- d) A abolição da escravidão no Brasil, ocorrida em 1888, contribuiu para a formação de uma sociedade não racista. Isso aconteceu porque após o fim da escravidão, o governo instituiu um programa de educação e de formação profissional para os ex-escravos.
- e) O racismo é uma triste marca presente na sociedade brasileira. O problema se torna ainda mais grave graças à total ausência de uma legislação e de políticas públicas nesse sentido.

Questão 49

Desde a Primeira Revolução Industrial, no século XVIII, a humanidade se beneficiou de uma série de avanços tecnológicos. Entretanto, eles afetaram o ambiente de maneira drástica e irreversível. Diante desse cenário, as gerações presente e futura têm a missão de cuidar dos recursos não renováveis que restaram, minimizar os impactos ambientais e educar para o desenvolvimento sustentável. Qual das afirmações abaixo NÃO pode ser considerada uma medida sustentável?

- a) Redução ou eliminação do desmatamento.
- b) Reflorestamento de áreas naturais devastadas.
- c) Fiscalização, por parte do governo e da população, de atos de degradação do meio ambiente.
- d) Contenção da produção de lixo e direcionamento correto para a diminuição de seus impactos.
- e) Incentivo à produção de energia por meio de hidrelétricas, dada à grande quantidade de recursos hídricos disponíveis no Brasil.

Questão 50

Em 9 de novembro de 1989, a queda do Muro de Berlim simbolizou o início de uma nova era, não apenas para a Alemanha unificada, mas para todo o mundo. Sobre o tema tratado, marque a única alternativa correta:

- a) Após a queda do Muro de Berlim, o mundo permaneceu bipolarizado, dividido entre os blocos capitalista e socialista.
- b) A queda do Muro de Berlim mostrou um novo direcionamento econômico com base no Neoliberalismo.
- c) A queda do muro demonstrou a força da antiga URSS e o fortalecimento do modelo econômico com base em princípios socialistas.
- d) O capitalismo sofreu grande impacto com a queda do Muro de Berlim, só conseguindo se recuperar nas décadas iniciais do século XXI.
- e) A queda do Muro de Berlim possibilitou a reunificação alemã e a Alemanha unificada surgiu frágil e subserviente aos interesses soviéticos.